


1) Escriba el nombre de las partes que están señaladas con los números de la siguiente Main Board:



1 _____

7 _____

2 _____

8 _____

3 _____

9 _____

4 _____

10 _____

5 _____

11 _____

6 _____

2) ¿Qué tipo de correa le sirve al siguiente disco duro?

- a) IDE
- b) SATA



3) ¿Qué tipo de correa le sirve al siguiente disco duro?

- a) IDE
- b) SATA




4) La siguiente imagen corresponde a:

- a) Disco Duro
- b) Memoria RAM
- c) Procesador

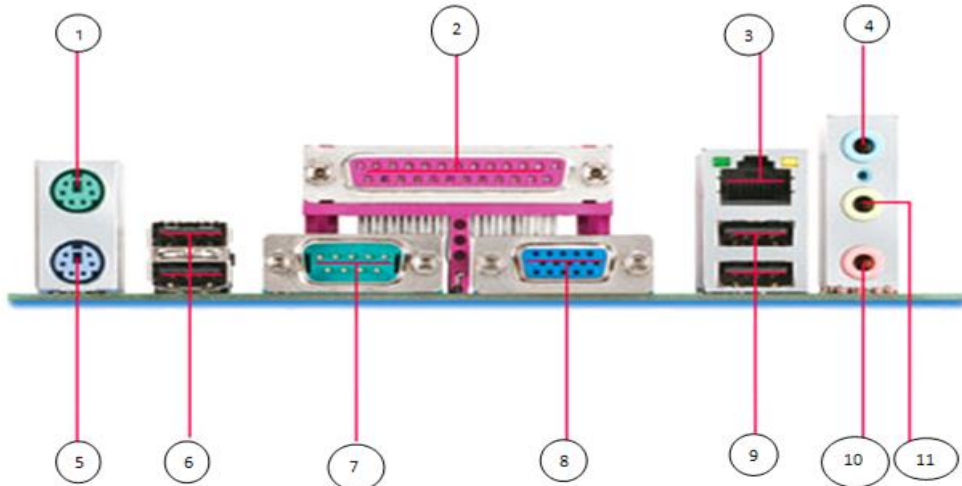


5) La siguiente imagen corresponde a:

- a) Disco Duro
- b) Memoria RAM
- c) Procesador



6) Escriba que se conecta en cada conector que muestra la siguiente imagen:



- 1. _____
- 2. _____
- 3. _____
- 4. _____
- 5. _____
- 6. _____
- 7. _____
- 8. _____
- 9. _____
- 10. _____
- 11. _____

7) ¿Qué clase de monitor es el de la ilustración?

- a) Monitor CRT
- b) Monitor Plasma
- c) Monitor LED



8) ¿Qué tipo de tecnología es la correa de la ilustración?

- a) SATA
- b) IDE



9) ¿Qué tipo de tecnología es la correa de la ilustración?

- a) SATA
- b) IDE





10) Ingresa al siguiente enlace y responde los cuestionarios virtuales, cuando termines comparte tu resultado con tu instructor(a):

http://www.educaplay.com/es/recursoseducativos/13726/las_partes_de_la_computadora.htm

http://www.createst.com/hacertests-69095-TEST_SOBRE_PARTES_INTERNAS_DEL_PC.php?test=69095

<http://www.interrogantes.com/test/intro.asp?cod=11045>=8703413645&keys=cuestionario%20educacion+cultura+escuelas+ense%F1anza+erasmus+universidad+estudios+academias+cursos+cursillos+graduado>